


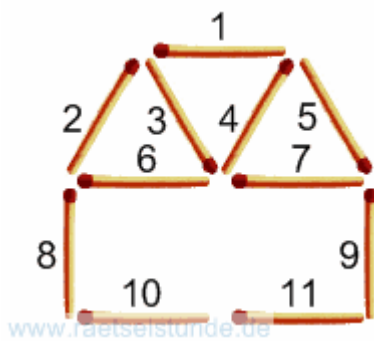
# Streichholzrätsel

1.



Welches Streichholz muss man umlegen, damit die Rechnung stimmt?

2.



Lege ein Streichholz so um, dass ein Dreieck und drei Vierecke entstehen.



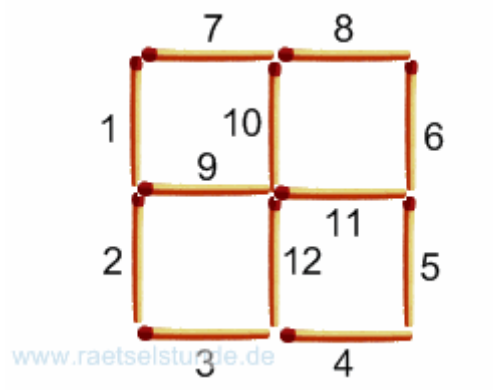
JH W



KJH G



3.



Lege drei Streichhölzer so um, dass aus diesen vier Quadraten drei Quadrate entstehen.



**JH W**



**KJH G**

