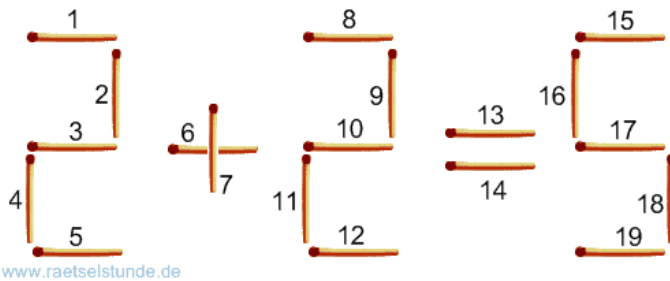


Streichholzrätsel

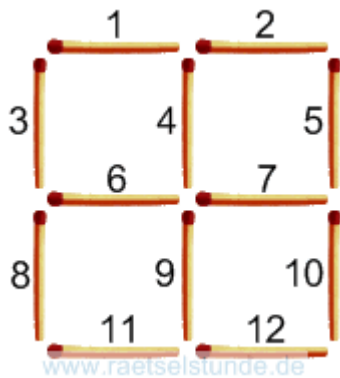
1.



www.raetselstunde.de

Welches Streichholz muss man umlegen, damit die Rechnung stimmt?

2.



www.raetselstunde.de

Entferne vier Streichhölzer, so dass zwei gleichgroße Quadrate übrigbleiben.



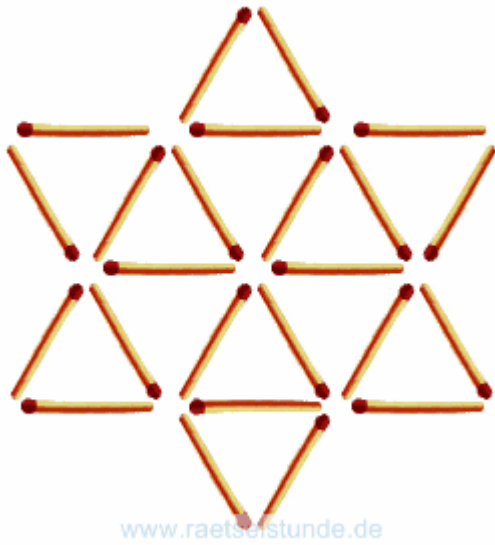
JH W



KJH G



3.



Wie viele Dreiecke sind in diesem Stern enthalten?



JH W



KJH G

